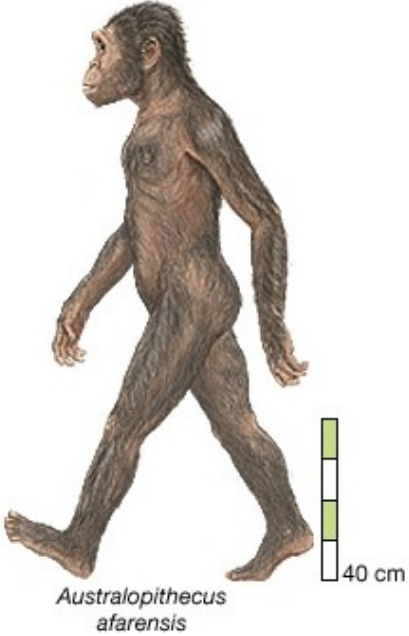


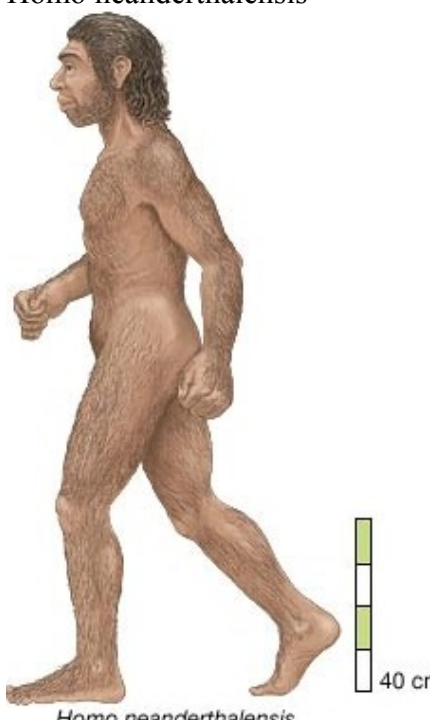

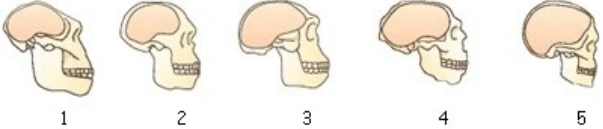


## L'Evoluzione Umana

1.	Su cosa si basa la comprensione dell'evoluzione della specie umana?	
2.	Il quadro dell'evoluzione umana è abbastanza completo? Spiega	
3.	Cosa sono i "PRIMATI"	
4.	Cosa comprende la superfamiglia degli ominoidi?	
5.	Quali sono le scimmie antropomorfe?	
6.	Cosa s'intende per bipedismo?	
7.	Perché il bipedismo ha facilitato l'evoluzione.	
8.	Nel corso dell'evoluzione, la capacità cranica è cambiata? Se sì come?	
9.	Cosa s'intende per "dimorfismo sessuale"	
10.	Nella dentatura qual è la principale differenza tra le grandi scimmie e gli antenati dell'uomo?	
11.	I più antichi fossili della specie umana a quando risalgono?	
12.	Che cosa puoi dire della specie "sivathecus"	
13.	Scimpanzè e gorilla sono parenti prossimi dell'uomo. Come si è potuti arrivare a questa affermazione?	
14.	Elenca le principali specie di antenati dell'uomo moderno	1. 2. 3. 4. 5.

<p>1 5.</p>	<p>Australopithecus afarensis</p>  <p><i>Australopithecus afarensis</i></p>	<p>Periodo</p> <p>Luogo</p> <p>Caratteristiche fisiche:</p> <p>Scatola cranica:</p> <p>Dieta:</p> <p>Altre caratteristiche:</p>
<p>1 6.</p>	<p>Homo habilis</p>  <p><i>Homo habilis</i></p>	<p>Periodo</p> <p>Luogo</p> <p>Caratteristiche fisiche:</p> <p>Scatola cranica:</p> <p>Dieta:</p> <p>Altre caratteristiche:</p>

<p>1 7.</p>	<p>Homo erectus</p>  <p><i>Homo erectus</i></p>	<p>Periodo</p> <p>Luogo</p> <p>Caratteristiche fisiche:</p> <p>Scatola cranica:</p> <p>Dieta:</p> <p>Altre caratteristiche:</p>
<p>1 8.</p>	<p>Homo neanderthalensis</p>  <p><i>Homo neanderthalensis</i></p>	<p>Periodo</p> <p>Luogo</p> <p>Caratteristiche fisiche:</p> <p>Scatola cranica:</p> <p>Dieta:</p> <p>Altre caratteristiche:</p>

19.	<p>Homo sapiens sapiens</p>  <p>(Homo sapiens)</p>	<p>Periodo</p> <p>Luogo</p> <p>Caratteristiche fisiche:</p> <p>Scatola cranica:</p> <p>Dieta:</p> <p>Altre caratteristiche:</p>
20.	<p>La figura che vedi rappresenta i disegni della scatola cranica dei nostri antenati. Indica a chi appartiene e il volume del cervello</p>	 <p>1. vol.</p> <p>2. vol</p> <p>3. vol</p> <p>4. vol</p> <p>5. vol</p>

21. Completa la tavola inserendo i nomi corrispondenti

